



Haryana Staff Selection Commission
Government of Haryana

Adv. No. 12/2019, Cat No. 91, Interior Decoration and Designing
Instructor(Theory),
SKIL DEVELOPMENT AND INDUSTRIAL TRAINING DEPARTMENT, HARYANA
Evening Session

Q1. निम्न में से क्या 'जल' का पर्याय नहीं है?

- A. पानी
B. नीर
C. मंदाकिनी
D. वारी

Q2. दिए गए शब्द का विलोम शब्द चुनिए।
परिश्रम

- A. बुरा
B. आलस्य
C. नवीन
D. अन्याय

Q3. "टांग अड़ाना" मुहावरे का सही अर्थ बताइये।

- A. प्रभाव होना
B. रुकावट डालना
C. संकट का अनुभव होना
D. बहुत भीड़ होना

Q4. 'पाठशालाएं' शब्द का सही एकवचन चुनिए।

- A. पाठशालान
B. पाठशाल
C. पाठशाला
D. पाठशला

Q5. रेखांकित शब्द का सही बहुवचन चुनिए "सैनिक ने मार्च पास्ट किया"।

- A. सैनिक ने मार्च पास्टिंग किया
B. अनेक सैनिकों ने मार्च पास्टिंग किया
C. सैनिकजन ने मार्च पास्टिंग किया
D. सैनिकों ने मार्च पास्ट किया

Q6. _____ is the synonym of "DISAPPEAR."

- A. Begin
B. Increase
C. Fade
D. Remain



Haryana Staff Selection Commission
Government of Haryana

**Adv. No. 12/2019, Cat No. 91, Interior Decoration and Designing
Instructor(Theory),
SKIL DEVELOPMENT AND INDUSTRIAL TRAINING DEPARTMENT, HARYANA
Evening Session**

Q7. _____ is the antonym of "SUDDEN."

- A. Gradual
B. Abrupt
C. Quick
D. Immediate

Q8. Identify the meaning of the idiom "to be a piece of cake."

- A. Something that is very easy
B. To refer to something that is pleasant to hear
C. To refer to a wedge-shaped object
D. Something that looks nice but is bad for health

Q9. The sentence has an incorrect phrase, which is in bold and underlined. Select the option that is the correct phrase to be replaced so that the statement is grammatically correct.

"He **steals** money from the bank when the policeman caught him in the act.

- A. stolen
B. steal
C. is stealing
D. was stealing

Q10. Complete the sentence by choosing the correct form of the verb given in brackets.

I _____ (play) football when you entered.

- A. play
B. was playing
C. playing
D. will playing

Q11. Who wrote Harshacharita, the biography of Harshavardhana?

- A. Banabhatta
B. Vishakadatta
C. Amoghavarsha
D. Bihana

Q11. हर्षवर्धन का जीवन-चरित्र हर्ष-चरित्र किसने लिखा?

- A. बाणभट्ट
B. विशाखादत्त
C. अमोघवर्ष
D. बिहान



Haryana Staff Selection Commission
Government of Haryana

**Adv. No. 12/2019, Cat No. 91, Interior Decoration and Designing
Instructor(Theory),
SKIL DEVELOPMENT AND INDUSTRIAL TRAINING DEPARTMENT, HARYANA
Evening Session**

Q12. Who is the finance minister of India as on January 2020?

- A. Smriti Irani
B. **Nirmala Sitharaman**
C. Mamata Banerjee
D. Vasundhara Raje

Q12. जनवरी 2020 को, भारत के वित्त मंत्री कौन हैं?

- A. स्मृती इरानी
B. **निर्मला सीतारामन**
C. ममता बैनर्जी
D. वसुंधरा राजे

Q13. In which state, the Garo-Khasi hill range is situated?

- A. **Meghalaya**
B. Assam
C. Uttar Pradesh
D. Arunachal Pradesh

Q13. गारो-खासी पहाड़ियाँ कौनसे राज्य में स्थित है?

- A. **मेघालय**
B. आसाम
C. उत्तर प्रदेश
D. अरुणाचल प्रदेश

Q14. How many fundamental rights does the constitution of India provide to its citizens?

- A. 4
B. 5
C. **6**
D. 7

Q14. भारतीय संविधान इसके नागरिकों को कितने मूलभूत अधिकार देता है?

- A. 4
B. 5
C. **6**
D. 7

Q15. Among the 245 members of Rajya Sabha, how many of them are presidential appointments?

- A. 2
B. **12**
C. 24
D. 14



Haryana Staff Selection Commission
Government of Haryana

**Adv. No. 12/2019, Cat No. 91, Interior Decoration and Designing
Instructor(Theory),
SKIL DEVELOPMENT AND INDUSTRIAL TRAINING DEPARTMENT, HARYANA
Evening Session**

Q15. राज्य सभा के 245 सदस्यों में से कितने सदस्यों कि नियुक्ति राष्ट्रपति द्वारा की जाती है?

- A. 2 **B. 12**
C. 24 D. 14

Q16. During which period, Timur attacked Haryana?

- A. 1410 AD **B. 1398 AD**
C. 1391 AD D. 1427 AD

Q16. तैमुर ने हरियाणा पर कौनसे काल में हमला बोला था?

- A. 1410 AD **B. 1398 AD**
C. 1391 AD D. 1427 AD

Q17. In which city of Haryana, did Firoz Shah Tughlaq establish a fort in 1354?

- A. Hisar** B. Gurgaon
C. Chandigarh D. Faridabad

Q17. 1354 में फिरोज शाह तुघलक ने हरियाणा के कौनसे शहर में किला बनाया था?

- A. हिसार** B. गुडगाँव
C. चंदीगड D. फरीदाबाद

Q18. Who is the director of Haryana Youth Welfare and Sports Department?

- A. Choudhary Bansilal B. Dushyant Chautala
C. Surender Sharma **D. Bhupendra singh**

Q18. हरियाणा यूथ वेलफेयर अँड स्पोर्ट्स डिपार्टमेंट (हरियाणा युवा कल्याण और खेल विभाग) के निदेशक कौन है?

- A. चौदरी बन्सीलाल B. दुष्यंत चौताला
C. सुरेन्दर शर्मा **D. भुपेन्द्र सिंग**



Haryana Staff Selection Commission
Government of Haryana

**Adv. No. 12/2019, Cat No. 91, Interior Decoration and Designing
Instructor(Theory),
SKIL DEVELOPMENT AND INDUSTRIAL TRAINING DEPARTMENT, HARYANA
Evening Session**

Q19. Who won bronze medal at the Asian Wrestling Championship 2019.

- A. Babita Kumari Phogat
B. Sakshi Malik
C. Geeta Kumari
D. Mary Kom

Q19. एशियन रेस्लिंग चैम्पियनशिप 2019 में किसने कांस्य पदक जीता?

- A. बबिता कुमारी फोगाट
B. साक्षी मलिक
C. गीता कुमारी
D. मेरी कोम

Q20. In which city, the Asian Billiards Championship 2019 was organized?

- A. Panipat
B. Chandigarh
C. Gurgaon
D. Faridabad

Q20. एशियन बिलियर्ड्स चैम्पियनशिप 2019 कौनसे शहर में आयोजित की गई थी?

- A. पानीपत
B. चंदीगड
C. गुडगाँव
D. फरीदाबाद

Q21. Which of the following dams/barrages in Haryana is built on the Ghaggar River?

- A. Kaushalya Dam
B. Ottu Barrage
C. Tajewala Barrage
D. Hathnikund Barrage

Q21. निम्न में से कौनसा बांध/बैरेज हरियाणा के घग्गर नदी पर बना है?

- A. कौशल्या बांध
B. ओट्टु बैरेज
C. तजेवला बैरेज
D. हथनिकुंड बैरेज

Q22. In Karnal district, a farmer named _____ was awarded the Padma Shri by the president Ramnath Kovind.

- A. Sultan Singh
B. Darshan Lal Jain
C. Vijay P Bhatkar
D. Bajrang Punia



Haryana Staff Selection Commission
Government of Haryana

**Adv. No. 12/2019, Cat No. 91, Interior Decoration and Designing
Instructor(Theory),
SKIL DEVELOPMENT AND INDUSTRIAL TRAINING DEPARTMENT, HARYANA
Evening Session**

Q22. कर्नाल जिले के _____ नाम के किसान को राष्ट्रपति रामनाथ कोविन्दजी ने पद्मश्री पुरस्कार दिया?

A. सुलतान सिंग

B. दर्शनलाल जैन

C. विजय पी भाटकर

D. बजरन्ग पुनिया

Q23. Aruna river is also called as _____.

A. Markanda river

B. Ghaggar river

C. Saraswati river

D. Yamuna river

Q23. अरुणा नदी को _____ यह भी कहा जाता है।

A. मार्कंड नदी

B. घग्गर नदी

C. सरस्वती नदी

D. यमुना नदी

Q24. Who is the minister of Haryana's Environment and climate change as on January 2020?

A. Manoj Sinha

B. Vipul Goel

C. Harshvardhan Singh

D. Gopal Bhargav

Q24. जनवरी 2020 को, हरियाणा के पर्यावरण और जलवायु परिवर्तन मंत्री कौन हैं?

A. मनोज सिन्हा

B. विपुल गोएल

C. हर्षवर्धन सिंग

D. गोपाल भार्गव

Q25. Who published the first Hindi newspaper of Haryana?

A. Sheela Sethani

B. Shree Ram Sharma

C. Jiyalal Jain

D. Tulsidas Sharma Dinesh

Q25. हरियाणा में पहला हिन्दी समाचारपत्र किसने प्रकाशित किया?

A. शीला सेठानी

B. श्री राम शर्मा

C. जियालाल जैन

D. तुलसीदास शर्मा दिनेश



Haryana Staff Selection Commission
Government of Haryana

**Adv. No. 12/2019, Cat No. 91, Interior Decoration and Designing
Instructor(Theory),
SKIL DEVELOPMENT AND INDUSTRIAL TRAINING DEPARTMENT, HARYANA
Evening Session**

Q26. Which of the following newspapers were published by Babu Kanhaiyalal ?

- A. Jain Prakash
C. Haryana
- B. **Jat Samachar**
D. Rifa-e-Aam

Q26. बाबू कन्हैयालालजी ने निम्न में से कौनसे समाचारपत्र प्रकाशित किए?

- A. जैन प्रकाश
C. हरियाणा
- B. **जट समाचार**
D. रिफा-ए-आम

Q27. The Haryanvi language is also known as _____.

- A. Bagri
C. Sanskrit
- B. Braj
D. **Bangru**

Q27. हरियाणवी भाषा को _____ इस नाम से भी जाना जाता है।

- A. बागरी
C. संस्कृत
- B. ब्रज
D. **बान्गरु**

Q28. Which of the following religious places in Haryana is believed to be the place where Lord Krishna delivered the Bhagavad Gita to Arjuna?

- A. Chanderkoop
C. Geeta Bhawan
- B. Valmiki Ashram
D. **Jyotisar**

Q28. निम्न में से हरियाणा के कौनसे धार्मिक स्थल पर भगवान श्रीकृष्णजी ने अर्जुन को भगवद् गीता सुनाई ऐसा माना जाता है?

- A. चंदरकूप
C. गीता भवन
- B. वाल्मिकी आश्रम
D. **ज्योतिसार**

Q29. In which year was the state of Haryana formed?

- A. **1966**
C. 1960
- B. 1970
D. 1976



Haryana Staff Selection Commission
Government of Haryana

**Adv. No. 12/2019, Cat No. 91, Interior Decoration and Designing
Instructor(Theory),
SKIL DEVELOPMENT AND INDUSTRIAL TRAINING DEPARTMENT, HARYANA
Evening Session**

Q29. हरियाणा राज्य कौनसे साल में बना?

A. 1966

B. 1970

C. 1960

D. 1976

Q30. In which month, the world's largest crafts fair called Surajkund Crafts Mela is celebrated in Haryana?

A. February

B. April

C. August

D. December

Q30. किस महीने में, सूरजकुंड शिल्प मेला नामक दुनिया का सबसे बड़ा शिल्प मेला हरियाणा में मनाया जाता है?

A. फरवरी

B. अप्रैल

C. अगस्त

D. दिसंबर

Q31. Which of the following companies owns a large fulfilment center in Sonipat, Haryana?

A. Walmart

B. Micromax

C. Amazon

D. Dalian Wanda Group

Q31. निम्न में से कौनसी कंपनी का बड़ा पूर्ति केंद्र हरियाणा के सोनिपत में स्थित है?

A. वालमार्ट

B. मायक्रोमैक्स

C. अमेज़ॉन

D. दलियन वान्डा ग्रूप

Q32. The state of Haryana has _____ administrative districts.

A. 22

B. 6

C. 21

D. 5

Q32. हरियाणा में _____ प्रशासनिक जिले हैं।

A. 22

B. 6

C. 21

D. 5



Haryana Staff Selection Commission
Government of Haryana

**Adv. No. 12/2019, Cat No. 91, Interior Decoration and Designing
Instructor(Theory),
SKIL DEVELOPMENT AND INDUSTRIAL TRAINING DEPARTMENT, HARYANA
Evening Session**

Q33. How many National Parks and Wildlife Sanctuaries are there in Haryana (respectively)?

- A. 2 and 6
B. 6 and 8
C. 2 and 8
D. 6 and 2

Q33. हरियाणा में कितने राष्ट्रीय उद्यान और वन्यजीव अभयारण्य है(क्रमशः)?

- A. 2 और 6
B. 6 और 8
C. 2 और 8
D. 6 और 2

Q34. Who among the following is known as the first Saangi(folk theatre) of Haryana?

- A. Kishan Lal Bhat
B. Dip Chand Bahman
C. Sheela Sethani
D. Ali Baksh

Q34. निम्न में से कौन हरियाणा के पहले सांगी (लोक रंगमंच) के तौर पर जाने जाते है?

- A. किशन लाल भट
B. दिप चंद बाहमण
C. शीला सेठानी
D. अलि बक्श

Q35. Which of the following awards of Haryana is conferred to outstanding sportspersons ?

- A. Bhim Award
B. Sur Samman
C. Chaudhary Devi Lal Award
D. Haryana Vigyan Ratna

Q35. निम्न में से हरियाणा के कौनसे पुरस्कार उत्कृष्ट खिलाड़ी को दिए जाते है?

- A. भीम पुरस्कार
B. सूर सम्मान
C. चौधरी देवी लाल पुरस्कार
D. हरियाणा विज्ञान रत्न

Q36. Which one of the following is not an Object Oriented Programming language?

- A. C#
B. Curl
C. C
D. Ruby



Haryana Staff Selection Commission
Government of Haryana

**Adv. No. 12/2019, Cat No. 91, Interior Decoration and Designing
Instructor(Theory),
SKIL DEVELOPMENT AND INDUSTRIAL TRAINING DEPARTMENT, HARYANA
Evening Session**

Q36. निम्नलिखित में से कौन सी एक ऑब्जेक्ट ओरियेन्टेड प्रोग्रामिंग लॉन्गेज नहीं है?

- A. C# B. कर्ल
C. C D. रूबी

Q37. System calls execute in _____ .

- A. Kernel mode B. User mode
C. Protected mode D. Private mode

Q37. सिस्टम कॉल _____ में निष्पादित होते हैं।

- A. कर्नेल मोड B. यूजर मोड
C. प्रोटेक्टेड मोड D. प्रायवेट मोड

Q38. Which was the first electronic programmable general-purpose computer?

- A. Universal Local Automatic Computer B. Electronic Discrete Variable Automatic Computer
C. Electronic Numerical Integrator D. Universal Automatic computer

Q38. निम्न में से कौनसा पहला इलेक्ट्रॉनिक प्रोग्रामेबल जनरल पर्पज कम्प्युटर था?

- A. युनिवर्सल लोकल ऑटोमैटिक कम्प्युटर B. इलेक्ट्रॉनिक डिस्क्रीट वेरिएबल ऑटोमैटिक कम्प्युटर
C. इलेक्ट्रॉनिक न्युमरिकल इन्टिग्रेटर D. युनिवर्सल ऑटोमैटिक कम्प्युटर

Q39. Which of the following is not a Search Engine?

- A. Baidu B. Gibiru
C. Yandex D. Unix

Q39. निम्न में से कौनसा सर्च इंजन नहीं है?

- A. बैदू B. गिबिरु
C. यान्डेक्स D. यूनिक्स



Haryana Staff Selection Commission
Government of Haryana

Adv. No. 12/2019, Cat No. 91, Interior Decoration and Designing
Instructor(Theory),
SKIL DEVELOPMENT AND INDUSTRIAL TRAINING DEPARTMENT, HARYANA
Evening Session

Q40. Find the odd one out.

- A. 17 B. 29
C. 53 D. 14

Q40. असंगत बताएँ

- A. 17 B. 29
C. 53 D. 14

Q41. Find the missing term:

ABCD : ZYXW :: EFGH : ?

- A. VUTS B. LMNO
C. TSRQ D. JIHG

Q41. अनुपस्थित अक्षर बताएँ

ABCD : ZYXW :: EFGH : ?

- A. VUTS B. LMNO
C. TSRQ D. JIHG

Q42. Fill the blank in the series given below:

6, 9, 14, ____, 30, 41

- A. 21 B. 23
C. 27 D. 25

Q42. निम्न शृंखला के रिक्त स्थानों की पूर्ति करें:

6, 9, 14, ____, 30, 41

- A. 21 B. 23
C. 27 D. 25

Q43. If MEERUT is coded as NFFSVU, then how is DELHI coded?

- A. DEFGB B. HIJKL
C. EFMIJ D. JKLMN



Haryana Staff Selection Commission
Government of Haryana

**Adv. No. 12/2019, Cat No. 91, Interior Decoration and Designing
Instructor(Theory),
SKIL DEVELOPMENT AND INDUSTRIAL TRAINING DEPARTMENT, HARYANA
Evening Session**

Q43. यदि MEERUT का कोड NFFSVU होता है, तो DELHI का कोड क्या होगा?

A. DEFGB

B. HIJKL

C. EFMIJ

D. JKLMN

Q44. Simplify $[\sqrt{(343)} + \sqrt{(7)}] / \sqrt{(28)}$

A. 2

B. 4

C. 6

D. 8

Q44. सरलीकरण करें $[\sqrt{(343)} + \sqrt{(7)}] / \sqrt{(28)}$

A. 2

B. 4

C. 6

D. 8

Q45. What is the profit percentage of a shopkeeper if the selling price is four times the value of $1/3^{\text{rd}}$ of the buying price?

A. 33.33%

B. 66.67%

C. 13.33%

D. 26.67%

Q45. यदि विक्रय मूल्य क्रय मूल्य के $1 / 3^{\text{rd}}$ मूल्य से चार गुना अधिक हो, तो किसी दुकानदार का लाभ प्रतिशत क्या है?

A. 33.33%

B. 66.67%

C. 13.33%

D. 26.67%

Q46. 10% of 20% of 50% of 250

A. 5

B. 1.25

C. 2.5

D. 10

Q46. 250 के 50% का 20% का 10%

A. 5

B. 1.25

C. 2.5

D. 10



Haryana Staff Selection Commission
Government of Haryana

**Adv. No. 12/2019, Cat No. 91, Interior Decoration and Designing
Instructor(Theory),
SKIL DEVELOPMENT AND INDUSTRIAL TRAINING DEPARTMENT, HARYANA
Evening Session**

Q47. If $a:b = 6:5$; $b:c = 12: 19$; then $a:b:c =$ _____.

- A. 72:64:85
B. 74:66:90
C. 76:62:80
D. 72:60:95

Q47. यदि $a:b = 6:5$; $b:c = 12: 19$; तो $a:b:c =$ _____.

- A. 72:64:85
B. 74:66:90
C. 76:62:80
D. 72:60:95

Q48. The SI unit of electric potential difference is _____ .

- A. Coulomb(C)
B. volt(V)
C. Joule(J)
D. Ohm

Q48. इलेक्ट्रिक (विद्युत) पोटेंशियल डिफरन्स का SI यूनिट _____ है।

- A. कौलोम्ब (C)
B. वोल्ट (V)
C. ज्यूल (J)
D. Ohm

Q49. What is the pH range of human body?

- A. 5.0 to 5.6
B. 7.0 to 7.8
C. 4.0 to 4.3
D. 8.1 to 8.6

Q49. मानवी शरीर की pH रेंज क्या होती है?

- A. 5.0 से 5.6
B. 7.0 से 7.8
C. 4.0 से 4.3
D. 8.1 से 8.6

Q50. The full form of ATP is _____ .

- A. Adenosyne Tetrphosphate
B. Adenosane Triphosphate
C. Adenosine Tetrphosphate
D. Adenosine Triphosphate



Haryana Staff Selection Commission
Government of Haryana

Adv. No. 12/2019, Cat No. 91, Interior Decoration and Designing
Instructor(Theory),
SKIL DEVELOPMENT AND INDUSTRIAL TRAINING DEPARTMENT, HARYANA
Evening Session

Q50. ATP का पूर्ण स्वरुप है _____।

- A. एडेनोसायडिन टेट्राफोस्फेट
B. एडेनोसेन ट्राइफोस्फेट
C. एडेनोसिन टेट्राफोस्फेट
D. एडेनोसिन ट्राइफोस्फेट

Q51. What does the image indicate?



- A. Safe Area
B. Fire Exit
C. Assembly Point
D. Fire point

Q51. दी गयी छवि क्या दर्शाती है ?



- A. सुरक्षित क्षेत्र
B. फायर एग्जिट
C. असेंबली पॉइंट
D. फायर पॉइंट

Q52. Which one of the following material is in the Class D fire?

- A. Wood
B. Petrol
C. Combustible metal
D. Cooking oils

Q52. निम्नलिखित में से कौन सा पदार्थ क्लास-D की आग में आता है?

- A. लकड़ी
B. पेट्रोल
C. दहनशील धातु
D. कुकिंग आयल



Haryana Staff Selection Commission
Government of Haryana

**Adv. No. 12/2019, Cat No. 91, Interior Decoration and Designing
Instructor(Theory),
SKIL DEVELOPMENT AND INDUSTRIAL TRAINING DEPARTMENT, HARYANA
Evening Session**

Q53. Which one of the following best describes a 'hazard'?

- A. Safe working conditions
B. Unsafe working conditions
C. Find the cause
D. Unplanned happening

Q53. निम्नलिखित में से कौन सा एक 'खतरे' का सबसे अच्छा वर्णन करता है ?

- A. सुरक्षित काम करने की स्थितियां
B. असुरक्षित काम करने की स्थितियां
C. कारण का पता लगायें
D. अनियोजित घटना

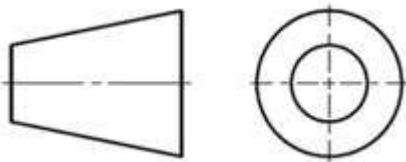
Q54. Which one of the following is the type of fall protection for the construction industry?

- A. Chain brake
B. Fenced off
C. Warning notice
D. Suspension

Q54. निम्नलिखित में से कौन सा निर्माण उद्योग के लिए फॉल प्रोटेक्शन का एक प्रकार है?

- A. चैन ब्रेक
B. फेन्सड ऑफ
C. वार्निंग नोटिस
D. सस्पेंशन

Q55. What does the symbol indicate?



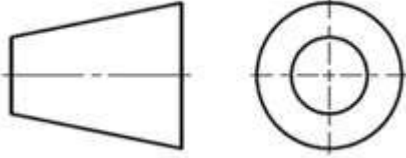
- A. First angle of projection
B. Second angle of projection
C. Third angle of projection
D. Fourth angle of projection



Haryana Staff Selection Commission
Government of Haryana

Adv. No. 12/2019, Cat No. 91, Interior Decoration and Designing
Instructor(Theory),
SKIL DEVELOPMENT AND INDUSTRIAL TRAINING DEPARTMENT, HARYANA
Evening Session

Q55. चिन्ह क्या दर्शाता है?



A. फर्स्ट एंगल ऑफ प्रोजेक्शन

B. सेकेण्ड एंगल ऑफ प्रोजेक्शन

C. थर्ड एंगल ऑफ प्रोजेक्शन

D. फोर्थ एंगल ऑफ प्रोजेक्शन

Q56. Which one of the following is a half scale in the drawing?

A. 3:2

B. 2:1

C. 1:2

D. 1:3

Q56. निम्नलिखित में से कौन सा एक ड्राइंग में आधा पैमाना है?

A. 3:2

B. 2:1

C. 1:2

D. 1:3

Q57. What is the ISO standard size for A1 sheet?

A. 105 x 148

B. 841 x 1189

C. 594 x 841

D. 420 x 594

Q57. A1 शीट के लिए ISO का मानक परिमाण क्या है?

A. 105 x 148

B. 841 x 1189

C. 594 x 841

D. 420 x 594

Q58. Which one of the following is the height to width ratio of capital letter in a drawing?

A. 10:6

B. 8:10

C. 9:10

D. 6:10



**Adv. No. 12/2019, Cat No. 91, Interior Decoration and Designing
Instructor(Theory),
SKIL DEVELOPMENT AND INDUSTRIAL TRAINING DEPARTMENT, HARYANA
Evening Session**

Q58. निम्नलिखित में से कौन सा एक ड्राइंग में कैपिटल लेटर की ऊंचाई में चौड़ाई का अनुपात है?

- A. 10:6
B. 8:10
C. 9:10
D. 6:10

Q59. Which one of the following instruments is used to combine the functions of T-square, set-squares, scales and protractor?

- A. Divider
B. Protractors
C. French curve
D. Mini - Drafter

Q59. निम्नलिखित में से कौन सा उपकरण टी-स्क्वायर, सेट-स्क्वायर, स्केल और प्रोटेक्टर के कार्यों को संयोजित करने के लिए उपयोग किया जाता है?

- A. डीवाइडर
B. प्रोट्रेक्टर्स
C. फ्रेंच कर्व
D. मिनी-ड्राफ्टर

Q60. Which one of the following is mandatory for Drawing?

- A. Tolerance
B. Projection symbol
C. Construction line
D. Dimension

Q60. ड्राइंग के लिए निम्नलिखित में से कौन सा अनिवार्य है?

- A. सहनशीलता
B. प्रोजेक्शन सिंबल
C. कंस्ट्रक्शन लाइन
D. आयाम

Q61. Which of the following pairs of orthographic views show both the width dimensions?

- A. Left side and front
B. Right side and front
C. Front and top
D. Right side and top

Q61. निम्नलिखित में से कौन सा ओर्थोग्रैफिक द्रष्टिकोण का युग्म चौड़ाई के दोनों आयाम प्रदर्शित करता है ?

- A. बाईं तरफ और सामने
B. दाएँ तरफ और सामने
C. सामने और ऊपर
D. दाएँ तरफ और ऊपर



**Adv. No. 12/2019, Cat No. 91, Interior Decoration and Designing
Instructor(Theory),
SKIL DEVELOPMENT AND INDUSTRIAL TRAINING DEPARTMENT, HARYANA
Evening Session**

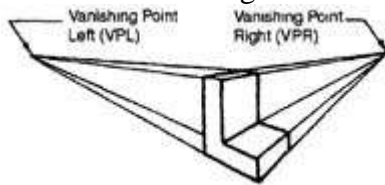
Q62. Which of the following is a technical drawing through a vertical slice of space?

- A. Line Drawing
B. Sectional Drawing
C. Engineering Drawing
D. Architectural Drawing

Q62. निम्नलिखित में से कौन सा अंतरिक्ष के एक ऊर्ध्वाधर टुकड़ा के माध्यम से एक तकनीकी ड्राइंग है?

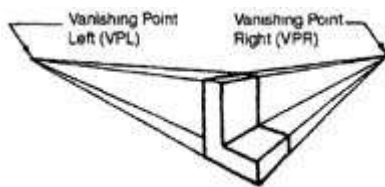
- A. लाइन ड्राइंग
B. सेक्शनल ड्राइंग
C. इंजिनियरिंग ड्राइंग
D. आर्किटेक्चरल ड्राइंग

Q63. What does the image indicate?



- A. Parallel Perspective
B. Oblique Perspective
C. Angular Perspective
D. Perpendicular Perspective

Q63. दी गयी छवि क्या दर्शाती है?



- A. समानांतर परिप्रेक्ष्य
B. ऑब्लिक पर्सपेक्टिव
C. कोणीय परिप्रेक्ष्य
D. लंबवत परिप्रेक्ष्य

Q64. Which one of the following projections is used to indicate the true shape of an inclined surface?

- A. Orthographic projection
B. Isometric projection
C. Oblique Projection
D. Auxiliary Projection



Haryana Staff Selection Commission
Government of Haryana

**Adv. No. 12/2019, Cat No. 91, Interior Decoration and Designing
Instructor(Theory),
SKIL DEVELOPMENT AND INDUSTRIAL TRAINING DEPARTMENT, HARYANA
Evening Session**

Q64. निम्न में से कौन सा प्रोजेक्शन एक इनक्लाइड सरफेस (नत सतह) के सही आकार को इंगित प्रकट करता है ?

- A. ओर्थोग्राफिक प्रोजेक्शन
B. इसोमेट्रिक प्रोजेक्शन
C. ऑब्लिक प्रोजेक्शन
D. सहायक प्रोजेक्शन

Q65. What does the image indicate?



- A. Timber lintels
B. Stone lintels
C. Brick lintels
D. Steel lintels

Q65. दी गयी छवि क्या इंगित करती है?



- A. लकड़ी की चौखट
B. पत्थर की चौखट
C. इंटों की चौखट
D. स्टील की चौखट

Q66. Which one of the following is **NOT** a type of turning stairs?

- A. Bifurcated stairs
B. Quarter turn stairs
C. Three - quarter turn stairs
D. Straight stairs



Haryana Staff Selection Commission
Government of Haryana

**Adv. No. 12/2019, Cat No. 91, Interior Decoration and Designing
Instructor(Theory),
SKIL DEVELOPMENT AND INDUSTRIAL TRAINING DEPARTMENT, HARYANA
Evening Session**

Q66. निम्न में से कौन सा सा एक मुड़ावदार सीढ़ी का प्रकार नहीं है?

- A. द्विशाखित सीढ़ियां
B. चौथाई मोड़ सीढ़ियां
C. तीन चौथाई मोड़ सीढ़ियां
D. सीधी सीढ़ियां

Q67. How much is the work done in raising 200 kg of water through a vertical distance of 6 meters?

- A. 12215J
B. 10670J
C. 11760J
D. 10750J

Q67. 6 मीटर की ऊर्ध्वाधर दूरी से 200 लीटर पानी खींचने में कितना कार्य किया जाता है?

- A. 12215J
B. 10670J
C. 11760J
D. 10750J

Q68. Which vinyl wall covering should be recommended for the high-traffic/public areas?

- A. Type I
B. Type II
C. Type III
D. Type IV

Q68. उच्च यातायात/सार्वजनिक क्षेत्रों के लिए कौन सी विनाइल वॉल कवरींग की संस्तुति की जानी चाहिए?

- A. प्रकार एक
B. प्रकार दो
C. प्रकार तीन
D. प्रकार चार

Q69. Which of the following flooring could be installed easily and LEAST expensively in a kitchen room?

- A. Cork
B. Vinyl
C. Laminate
D. Ceramic tile

Q69. निम्नलिखित में से किस फ्लोरिंग को आसानी से तथा कम कीमत में रसोई घर में लगाया जा सकता है ?

- A. कॉर्क
B. विनाइल
C. लैमिनेट
D. सिरेमिक टाइल्स



Haryana Staff Selection Commission
Government of Haryana

**Adv. No. 12/2019, Cat No. 91, Interior Decoration and Designing
Instructor(Theory),
SKIL DEVELOPMENT AND INDUSTRIAL TRAINING DEPARTMENT, HARYANA
Evening Session**

Q70. Which one of the following arch types has three overlapping rings?

A. Trefoil Arch

B. Asian Arch

C. Ogee Arches

D. Four-Centered Arch

Q70. निम्नलिखित में से किस प्रकार के मेहराबों (आर्क्स) में तीन प्रकार की ओवर लैपिंग रिंग होती है?

A. ट्रीफॉयल आर्क

B. एशियाई आर्क

C. ओगी आर्क

D. फोर- सेंटर्ड आर्क

Q71. What does the image indicate?



A. Flush door

B. Revolving door

C. Glazed and sash door

D. Panelled door



Haryana Staff Selection Commission
Government of Haryana

Adv. No. 12/2019, Cat No. 91, Interior Decoration and Designing
Instructor(Theory),
SKIL DEVELOPMENT AND INDUSTRIAL TRAINING DEPARTMENT, HARYANA
Evening Session

Q71. दी गयी छवि क्या इंगित करती है?



- A. फलश डोर
B. रिवॉल्विंग डोर
C. ग्लेज्ड एंड साष डोर
D. पॅनेल्लड डोर

Q72. Which one of the following windows is provided on the slopping surface of a pitched roof?

- A. Dormer & Gable window
B. Corner window
C. Skylight window
D. Clear story window

Q72. निम्नलिखित में से कौन सी खिड़की एक छत की स्लोपिंग सतह में लगाई जाती है?

- A. डॉर्मर और गेबल खिड़की
B. कोने की खिड़की
C. रोशनदान की खिड़की
D. क्लियर स्टोरी खिड़की

Q73. There is a teak wood cube, and each side has a length of 1m. The density of the teak wood is $0.9 \times 10^3 \text{ kg/m}^3$. What is the mass of the cube?

- A. 800 kg
B. 700 kg
C. 850 kg
D. 900 kg



Haryana Staff Selection Commission
Government of Haryana

**Adv. No. 12/2019, Cat No. 91, Interior Decoration and Designing
Instructor(Theory),
SKIL DEVELOPMENT AND INDUSTRIAL TRAINING DEPARTMENT, HARYANA
Evening Session**

Q73. एक सागौन की लकड़ी के घन की प्रत्येक दिशा की लम्बाई 1 मीटर है सागौन की लकड़ी का घनत्व $0.9 \times 10^3 \text{ kg/m}^3$. घन का द्रव्यमान क्या है?

- A. 800 किलोग्राम
B. 700 किलोग्राम
C. 850 किलोग्राम
D. 900 किलोग्राम

Q74. Which one of the following heating, ventilation, and air-conditioning system is used for tight on space?

- A. Hybrid heat split system
B. Packaged heating and cooling system
C. Heat pumps
D. Variable volume HVAC system

Q74. निम्नलिखित में से कौन सा हीटिंग, वेंटिलेशन और एयर-कंडीशनिंग सिस्टम का उपयोग कम जगह वाले स्थान के लिए किया जाता है?

- A. हाइब्रिड हीट स्प्लिट सिस्टम
B. पैकेज्ड हीटिंग एंड कुलिंग सिस्टम
C. हीट पम्पस
D. वेरिएबल वॉल्यूम HVAC सिस्टम

Q75. What does the image indicate?



- A. Bristle brush
B. Triangular-load scraper
C. Paint scraper
D. Wire brush



Haryana Staff Selection Commission
Government of Haryana

Adv. No. 12/2019, Cat No. 91, Interior Decoration and Designing
Instructor(Theory),
SKIL DEVELOPMENT AND INDUSTRIAL TRAINING DEPARTMENT, HARYANA
Evening Session

Q75. दी गयी छवि क्या दर्शाती है?



- A. कड़े बालो वाला ब्रश
B. त्रिकोणीय-लोड स्क्रेपर
C. पेंट स्क्रेपर
D. तारों वाला ब्रश

Q76. Which one of the following floor types is made from linseed oil?

- A. Vinyl
B. Ceramic Tiles
C. Linoleum
D. Laminates

Q76. निम्नलिखित में से कौन सा फर्श का प्रकार अलसी के तेल से बनाया जाता है?

- A. विनाइल
B. सेरेमिक टाइल्स
C. लिनोलियम
D. लेमिनेट्स

Q77. Which of the following is very important for our environment?

- A. Green Cement
B. Eco Cement
C. Plaster of Paris
D. Cement mixed with green algae

Q77. निम्नलिखित में से कौन सा हमारे पर्यावरण के लिए बहुत महत्वपूर्ण है?

- A. ग्रीन सेमेंट
B. ईको सेमेंट
C. प्लास्टर ऑफ पेरिस
D. सेमेंट मिक्स्ड वित्त ग्रीन आल्गे



Haryana Staff Selection Commission
Government of Haryana

Adv. No. 12/2019, Cat No. 91, Interior Decoration and Designing
Instructor(Theory),
SKIL DEVELOPMENT AND INDUSTRIAL TRAINING DEPARTMENT, HARYANA
Evening Session


Q78. What is the speed of light in water whose refractive index is 1.4?

- A. 2.28×10^8 m/s
B. 2.58×10^8 m/s
C. 2.14×10^8 m/s
D. 2.78×10^8 m/s

Q78. पानी में प्रकाश की गति कितनी होगी अगर अपवर्तक सूचकांक 1.4 है?


- A. 2.28×10^8 m/s
B. 2.58×10^8 m/s
C. 2.14×10^8 m/s
D. 2.78×10^8 m/s

Q79. What does the image indicate?



- A. Reducer
B. Cross
C. Tee
D. Elbow

Q79. दिखाई गई छवि क्या दर्शाती है?



- A. रिडूसर
B. क्रॉस
C. टी
D. एल्बो

Q80. What is the water from human feces with flushed water called?

- A. Yellow water
B. Black water
C. Brown water
D. Grey water



Haryana Staff Selection Commission
Government of Haryana

**Adv. No. 12/2019, Cat No. 91, Interior Decoration and Designing
Instructor(Theory),
SKIL DEVELOPMENT AND INDUSTRIAL TRAINING DEPARTMENT, HARYANA
Evening Session**

Q80. मानव मल के साथ फ्लश किये गए पानी को क्या कहा जाता है ?

- A. पीला पानी
B. काला पानी
C. भूरा पानी
D. स्लेटी पानी

Q81. What is the formula for cold bending radius?

- A. 10 x outside diameter
B. 5 x outside diameter
C. 3 x outside diameter
D. 12 x outside diameter

Q81. कोल्ड बेन्डिंग रेडियस का सूत्र क्या है?

- A. 10 x बाह्य व्यास
B. 5 x बाह्य व्यास
C. 3 x बाह्य व्यास
D. 12 x बाह्य व्यास

Q82. What is the equivalent length of a 2100mm long 50mm diameter pipe that has 24 elbows in it?

- A. 2458 mm
B. 3125 mm
C. 2653 mm
D. 3696 mm

Q82. 2100mm लंबे तथा 50mm व्यास के पाइप की समतुल्य लंबाई क्या है जिसमें 24 एल्बो हैं?

- A. 2458 mm
B. 3125 mm
C. 2653 mm
D. 3696 mm

Q83. What is the proposition of using lights in your home?

- A. 80% overhead, 20% free stand or table lamp
B. 90% overhead, 10% free stand or table lamp
C. 70% overhead, 30% free stand or table lamp
D. 75% overhead, 25% free stand or table lamp

Q83. घर में रोशनी का उपयोग करने के की प्रस्ताविकी क्या है?

- A. 80% ओवरहेड, 20% फ्री स्टैंड या टेबल लैंप
B. 90% ओवरहेड, 10% फ्री स्टैंड या टेबल लैंप
C. 70% ओवरहेड, 30% फ्री स्टैंड या टेबल लैंप
D. 75% ओवरहेड, 25% फ्री स्टैंड या टेबल लैंप



Haryana Staff Selection Commission
Government of Haryana

**Adv. No. 12/2019, Cat No. 91, Interior Decoration and Designing
Instructor(Theory),
SKIL DEVELOPMENT AND INDUSTRIAL TRAINING DEPARTMENT, HARYANA
Evening Session**

Q84. What is the objective of false ceilings?

- A. Resistance to Fire
B. Security against Burglary
C. Economy
D. Sound Insulation

Q84. फॉल सीलिंग का उद्देश्य क्या है?

- A. आग का प्रतिरोध
B. चोरी के खिलाफ सुरक्षा
C. मितव्ययता
D. ध्वनि रोधन

Q85. Which of the following technical expertise is to know the vast array of options and give creative solutions to the space they use for design?

- A. Paperhanging and Design
B. Interior design
C. Civil Engineering
D. Partners in Design

Q85. निम्नलिखित में से कौन सी तकनीकी विशेषज्ञता, विकल्पों की विशाल श्रेणी को जानने और डिजाइन किए जाने वाले स्थान के ऊपर रचनात्मक समाधान देने के लिए है?

- A. पेपरहेंगिंग और डिजाईन
B. इंटीरियर डिजाईन
C. सिविल इंजिनियरिंग
D. डिजाइन में सहभागी

Q86. Which one of the following 3D softwares is widely used for interior designing?

- A. Autodesk Homestyler
B. iHandy Carpenter
C. AutoCAD 360
D. Architect's Formulator

Q86. निम्न में से कौन सा 3D सॉफ्टवेयर व्यापक रूप से इंटीरियर डिजाइनिंग के लिए उपयोग किया जाता है ?

- A. ऑटोडेस्क होमस्टाइलर
B. आईहैंडी कारपेंटर
C. ऑटोकैड 360
D. आर्किटेक्ट फोर्मुलेटर



Haryana Staff Selection Commission
Government of Haryana

Adv. No. 12/2019, Cat No. 91, Interior Decoration and Designing
Instructor(Theory),
SKIL DEVELOPMENT AND INDUSTRIAL TRAINING DEPARTMENT, HARYANA
Evening Session

Q87. What does the image indicate?



- A. Linesman Pliers
B. Tongue-and-Groove Pliers
C. Side-Cutting Diagonal Pliers
D. Wire Crimpers

Q87. दिखाई गयी छवि क्या दर्शाती है?



- A. लाइन्समैन प्लायर
B. टंग एंड गूव प्लायर
C. साइड-कटिंग डायगोनल प्लायर
D. वायर क्रिम्पर

Q88. What is the single phase voltage and frequency used for domestic appliances in India?

- A. 220V, 50Hz
B. 230V, 50Hz
C. 120V, 60Hz
D. 127V, 50Hz

Q88. भारत में घरेलू उपकरणों के लिए उपयोग होने वाली सिंगल फेज वोल्टेज और आवृत्ति क्या है?

- A. 220V, 50Hz
B. 230V, 50Hz
C. 120V, 60Hz
D. 127V, 50Hz



Haryana Staff Selection Commission
Government of Haryana

**Adv. No. 12/2019, Cat No. 91, Interior Decoration and Designing
Instructor(Theory),
SKIL DEVELOPMENT AND INDUSTRIAL TRAINING DEPARTMENT, HARYANA
Evening Session**

Q89. Which one of the given fittings is used to avoid short circuit and overloading?

- A. Switch
B. Plug
C. Miniature Circuit Breaker (MCB)
D. Residual Current Devices (RCD)

Q89. शॉर्ट सर्किट और ओवरलोडिंग से बचने के लिए दी गई फिटिंग्स में से किसका उपयोग किया जाता है?

- A. स्विच
B. प्लग
C. लघु सर्किट ब्रेकर (MCB)
D. शेष करंट उपकरण (RCD)

Q90. An emf source of 12.0V is connected to a purely resistive lamp and a current of 3.0 amperes is flown through it. If all the wires are resistance-free, then what will be the resistance of the lamp?

- A. 36Ω
B. 4Ω
C. 15Ω
D. 9Ω

Q90. 12.0V का emf स्रोत, पूर्ण रूप से प्रतिरोधक दीपक से जुड़ा है और 3.0 amperes का करंट इसके माध्यम से प्रवाहित होता है। यदि सभी तार प्रतिरोध मुक्त हैं, तो दीपक का प्रतिरोध क्या होगा ?

- A. 36Ω
B. 4Ω
C. 15Ω
D. 9Ω